

# PREFEITURA MUNICIPAL DE QUISSAMÃ/RJ

CONCURSO PÚBLICO 001/2019

EDITAL nº 001/2019

## FISCAL MUNICIPAL DE POSTURAS

PCI Concursos

ORGANIZADORA:



“A persistência é o caminho do êxito”.

*Charles Chaplin.*

EM BRANCO

PCI Concursos

# CADERNO DE PROVAS

Caro(a) Candidato(a): **Antes de iniciar a prova leia atentamente as instruções a seguir:**

1. Este caderno contém 40 (quarenta) questões objetivas com 04 (quatro) opções (A, B, C, D). A prova terá duração máxima de 03(três) horas. A prova terá seu horário de início em sala, a contar após a distribuição dos cadernos de prova e autorização do aplicador(a).
2. Confira em seu caderno de provas a sequência de questões. Você tem até 10 (dez) minutos do início das provas para solicitar a troca do caderno de provas que apresentar algum problema de impressão ou qualquer outro que inviabilize a realização da mesma, pois não serão aceitas reclamações posteriores nesse sentido.
3. A interpretação das questões, bem como das instruções, faz parte da prova. Portanto, ao aplicador(a) de sala e fiscais não há autorização para fornecer esclarecimentos sobre o conteúdo das provas, sendo esta atribuição de única e exclusiva responsabilidade do(a) candidato(a).
4. Você receberá do aplicador o cartão de respostas 30 (trinta) minutos após o início da prova, o cartão de respostas deverá obrigatoriamente ser assinado pelo(a) candidato(a) no local em que há a indicação: “**ASSINATURA**”, utilizando sempre caneta esferográfica de tinta preta ou azul.
5. Caso realmente precise, utilize como rascunho os espaços em branco nas folhas do caderno de prova. Sugerimos que você assinale, inicialmente, no próprio caderno de provas, todas as respostas que julgar correta. Depois, passe-as para o cartão de respostas.
6. Questões com mais de uma alternativa assinalada, rasurada ou em branco serão **ANULADAS**. Portanto, ao preencher o cartão de respostas faça-o cuidadosamente. Evite erros, pois em hipótese alguma haverá substituição do cartão de respostas por erro do(a) candidato(a).
7. Ao terminar a prova ou findo o horário limite para sua realização, o candidato deverá **OBRIGATORIAMENTE** entregar seu cartão de respostas “**ASSINADO**”, ao aplicador(a) de sala. O(a) candidato(a) que não devolver seu cartão de respostas será automaticamente **eliminado(a)** e não terá classificação alguma no concurso público.
8. **Atenção!** Preencha o cartão-resposta na mesma sequência numérica das questões do caderno de provas.
9. Somente será permitido levar o caderno de questões (prova), depois de decorrido o período de **120 (cento e vinte) minutos do início das provas.**
10. Não serão permitidas consultas a quaisquer materiais, uso de telefone celular ou outros aparelhos eletrônicos, assim como os demais procedimentos constantes no subitem 9.7 e no subitem 9.9 do Edital 001/2019.
11. Após o término da prova, o(a) candidato(a) deverá deixar imediatamente o recinto da mesma, sendo **terminantemente proibido** fazer contato com os(as) candidatos(as) que ainda não terminaram a prova sob pena de ser excluído do Concurso Público.
12. O desrespeito às normas que regem o presente concurso, bem como, a desobediência às exigências registradas no edital, além de sanções legais cabíveis implica na desclassificação do candidato.
13. Aguarde a ordem do aplicador para iniciar a prova.
14. Os dois últimos candidatos ao terminarem as provas deverão retirar-se da sala simultaneamente, após testemunharem o fechamento (lacre) do envelope de provas, assinando a Ata Relatório.
15. O candidato, após a divulgação dos gabaritos oficiais preliminares da Prova Objetiva, que será feita às **16 horas** do dia **17/02/2020**, no site [www.gualimp.com.br](http://www.gualimp.com.br), poderá peticionar **RECURSO** à banca examinadora, quando julgar que ocorreu erro na formulação das questões e divulgação do gabarito preliminar, nos dias **18/02/2020 e 19/02/2020.**

**NÃO ESQUEÇA!**  
**Ao sair, entregue o cartão de respostas devidamente assinado.**  
**BOA PROVA!!!**

# ATENÇÃO!!!

- O CARTÃO DE RESPOSTAS ABAIXO É PARA SER UTILIZADO SOMENTE COMO RASCUNHO.
- AO RECEBER O CARTÃO DE RESPOSTAS DEFINITIVO CONFIRA OS DADOS DE IDENTIFICAÇÃO (NOME, CARGO, NÚMERO DE INSCRIÇÃO) E EM SEGUIDA ASSINE NO LOCAL INDICADO.

## CARTÃO RESPOSTA



PREFEITURA MUNICIPAL DE QUISSAMÃ - RJ CONCURSO PÚBLICO 001/2019				
Nome:		Local:		
Cargo:		Data:		
Sala:	Nº de inscrição:		Turno:	

<p>* Marcar apenas uma opção para cada questão, evitando-se ultrapassar o círculo;                  * O círculo correspondente à questão escolhida deve ser totalmente preenchido, evitando-se ultrapassar o círculo;                  * Marcar apenas a quantidade de questões existentes na sua prova;                  * Utilize somente caneta esferográfica azul ou preta, não rasurar ou sujar o cartão;  <b>É NECESSIDADE DO CANDIDATO A CONFERÊNCIA DOS DADOS DE SEU CARTÃO DE RESPOSTA</b></p>	<b>TIPO DE PROVA</b> PROVA PADRÃO
---	--------------------------------------

01	(A)	(B)	(C)	(D)	21	(A)	(B)	(C)	(D)
02	(A)	(B)	(C)	(D)	22	(A)	(B)	(C)	(D)
03	(A)	(B)	(C)	(D)	23	(A)	(B)	(C)	(D)
04	(A)	(B)	(C)	(D)	24	(A)	(B)	(C)	(D)
05	(A)	(B)	(C)	(D)	25	(A)	(B)	(C)	(D)
06	(A)	(B)	(C)	(D)	26	(A)	(B)	(C)	(D)
07	(A)	(B)	(C)	(D)	27	(A)	(B)	(C)	(D)
08	(A)	(B)	(C)	(D)	28	(A)	(B)	(C)	(D)
09	(A)	(B)	(C)	(D)	29	(A)	(B)	(C)	(D)
10	(A)	(B)	(C)	(D)	30	(A)	(B)	(C)	(D)
11	(A)	(B)	(C)	(D)	31	(A)	(B)	(C)	(D)
12	(A)	(B)	(C)	(D)	32	(A)	(B)	(C)	(D)
13	(A)	(B)	(C)	(D)	33	(A)	(B)	(C)	(D)
14	(A)	(B)	(C)	(D)	34	(A)	(B)	(C)	(D)
15	(A)	(B)	(C)	(D)	35	(A)	(B)	(C)	(D)
16	(A)	(B)	(C)	(D)	36	(A)	(B)	(C)	(D)
17	(A)	(B)	(C)	(D)	37	(A)	(B)	(C)	(D)
18	(A)	(B)	(C)	(D)	38	(A)	(B)	(C)	(D)
19	(A)	(B)	(C)	(D)	39	(A)	(B)	(C)	(D)
20	(A)	(B)	(C)	(D)	40	(A)	(B)	(C)	(D)

_____ Assinatura do Candidato	Nº DE INSCRIÇÃO
----------------------------------	-----------------

**OBS.:** O candidato deverá **OBRIGATORIAMENTE**, entregar seu cartão de repostas definitivo preenchido e **ASSINADO**, sob pena de ter seu cartão de respostas **ANULADO**.  
 (item 9.15 do edital 001/2019)

## QUESTÕES DE LINGUA PORTUGUESA

Leia o texto a seguir para responder às questões de 1 a 5.

### A vida sem celular

O inevitável aconteceu: perdi meu celular. Estava no bolso da calça. Voltei do Rio de Janeiro, peguei um táxi no aeroporto. Deve ter caído no banco e não percebi. Tentei ligar para o meu próprio número. Deu caixa postal. Provavelmente eu o desliguei no embarque e esqueci de ativá-lo novamente. Meu quarto parece uma trincheira de guerra de tanto procurá-lo. Agora me rendo: sou um homem sem celular.

O primeiro sentimento é de pânico. Como vou falar com meus amigos? Como vão me encontrar? Estou desconectado do mundo. Nunca botei minha agenda em um programa de computador, para simplesmente recarregá-la em um novo aparelho. Será árduo garimpar os números da família, amigos, contatos profissionais. E se alguém me ligar com um assunto importante? A insegurança é total.

Reflijo. Podem me achar pelo telefone fixo. Meus amigos me encontrarão, pois são meus amigos. Eu os buscarei, é óbvio. Então por que tanto terror?

Há alguns anos - nem tantos assim - ninguém tinha celular. A implantação demorou por aqui, em relação a outros países. E a vida seguia. Se alguém precisasse falar comigo, deixava recado. Depois eu chamava de volta. Se estivesse aguardando um trabalho, por exemplo, eu ficava esperto. Ligava perguntando se havia novidades. Muitas coisas demoravam para acontecer. Mas as pessoas contavam com essa demora. Não era realmente ruim.

Saía tranquilo, sem o risco de que me encontrassem a qualquer momento, por qualquer bobagem. A maior parte das pessoas vê urgência onde absolutamente não há. Ligam afobadas para fazer uma pergunta qualquer. Se não chamo de volta, até se ofendem.

— Eu estava no cinema, depois fui jantar, bater papo.

— É... Mas podia ter ligado!

Como dizer que podia, mas não queria?

Vejo motoristas de táxi tentando se desvencilhar de um telefonema.

— Agora não posso falar, estou dirigindo.

— Só mais uma coisinha...

Fico apavorado no banco enquanto ele faz curvas e curvas, uma única mão no volante. Muita gente não consegue desligar mesmo quando se explica ser impossível falar. Dá um nervoso!

A maioria dos chefes sente-se no direito de ligar para o subordinado a qualquer hora. Noites, fins de semana, tudo submergiu numa contínua atividade profissional. No relacionamento pessoal ocorre o mesmo.

— Onde você está? Estou ouvindo uma farra aí atrás.

— Vendo televisão! É um comercial de cerveja!

Um amigo se recusa a ter celular.

— Fico mais livre.

Às vezes um colega de trabalho reclama:

— Precisava falar com você, mas não te achei.

— Não era para achar mesmo.

Há quem desfrute o melhor. Conheço uma representante de vendas que trabalha na praia durante o verão. Enquanto torra ao sol, compra, vende, negocia. Mas, às vezes, quando está para fechar o negócio mais importante do mês, o aparelho fica fora de área. Ela quase enlouquece!

Pois é. O celular costuma ficar fora de área nos momentos mais terríveis. Parece de propósito! Como em um recente acidente automobilístico que me aconteceu. Eu estava bem, mas precisava falar com a seguradora. O carro em uma rua movimentada. E o celular mudo! Quase pirei! E quando descarrega no melhor de um papo, ou, pior, no meio da briga, dando a impressão de que desliguei na cara?

Na minha infância, não tinha nem telefone em casa. Agora não suporto a ideia de passar um dia desconectado. É incrível como o mundo moderno cria necessidades. Viver conectado virou vício. Talvez o dia a dia fosse mais calmo sem celular. Mas vou correndo comprar um novo!

*CARRASCO, Walcyr. A vida sem celular. Veja São Paulo. Adaptado*

**01.** A tipologia textual predominante na crônica lida é:

- (A) Narração. (B) Descrição. (C) Dissertação. (D) Injunção.

**02.** São características do título do texto, EXCETO:

- (A) Frase nominal.  
(B) Tendência à síntese.  
(C) Presença de substantivo e verbo.  
(D) Linguagem denotativa.

**03.** “E o celular mudo! Quase pirei!”. As palavras sublinhadas nessa frase são características da linguagem:

- (A) Coloquial. (B) Formal. (C) Acadêmica. (D) Publicitária.

**04.** “Provavelmente eu o desliguei no embarque e esqueci de ativá-lo novamente.”. A relação existente entre a primeira e a segunda oração, marcada pela conjunção destacada, é de:

- (A) Oposição. (B) Explicação. (C) Conclusão. (D) Adição.

**05.** “Vejo motoristas de táxi tentando se desvencilhar de um telefonema.”. A palavra destacada apresenta o sentido de:

- (A) Fixar. (B) Apreender. (C) Dissociar. (D) Submeter-se.

**06.** Marque a alternativa que apresenta desvio da norma culta da língua.

- (A) Não se sabe por que o celular ficou desconectado.  
(B) Ele se comportou mal ao dirigir, usando o celular.  
(C) Não sei aonde começar a procurar meu celular.  
(D) Fez tudo aquilo a fim de se livrar do aparelho.

**07.** O modo subjuntivo pode levar o leitor para uma realidade hipotética. Assinale a opção que apresenta um trecho em que o autor faça uso desse modo verbal.

- (A) “A implantação demorou por aqui, em relação a outros países.”  
(B) “Na minha infância, não tinha nem telefone em casa.”  
(C) “Eu estava bem, mas precisava falar com a seguradora.”  
(D) “Saía tranquilo, sem o risco de que me encontrassem a qualquer momento [...]”

**08.** Há erro de concordância verbal em:

- (A) Tudo aconteceu faz dez dias.  
(B) Houveram graves problemas decorrentes do uso indevido de celular.  
(C) Era-se mais feliz no passado.  
(D) Vendem-se celulares a prazo.

**09.** “Mas vou correndo comprar um novo!”. O conectivo destacado nessa frase apresenta o sentido de:

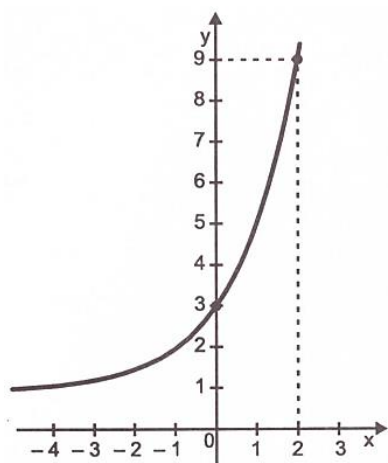
- (A) Condição. (B) Finalidade. (C) Tempo. (D) Oposição.

**10.** “Se não chamo de volta, até se ofendem.”. É correto afirmar sobre as palavras sublinhadas nessa frase:

- (A) A primeira é um pronome.
- (B) A segunda é uma conjunção.
- (C) A primeira é uma conjunção.
- (D) Ambas são pronomes.

## QUESTÕES DE MATEMÁTICA

**11.** Observe a seguir o gráfico de uma função  $g: \mathbb{R} \rightarrow ]1, +\infty[$ .



Qual é a lei que define essa função?

- (A)  $g(x) = 2^x + 1$ .
- (B)  $g(x) = 2^{x+1}$ .
- (C)  $g(x) = 2^{x+1} + 1$ .
- (D)  $g(x) = 2^{x+2} + 1$ .

**12.** Luiz foi em uma lanchonete e comprou 2 hambúrgueres e 3 latas de refrigerantes por R\$ 25,00. Carla comprou 3 hambúrgueres e 2 latas de refrigerante e pagou por essa compra R\$ 30,00. Marcelo comprou 1 hambúrguer e 1 lata de refrigerante. Qual foi o valor pago por Marcelo?

- (A) R\$ 20,00.
- (B) R\$ 16,00.
- (C) R\$ 15,00.
- (D) R\$ 11,00.

**13.** Renata comprou algumas rifas de sua amiga Bianca. Renata disse a Bianca que compraria todas as rifas que tivessem a numeração entre 300 e 900 que não fossem múltiplos de 4. Quantas rifas Renata comprou?

- (A) 549.
- (B) 550.
- (C) 551.
- (D) 552.

**14.** Flávia trabalha como vendedora em uma loja de roupas, e no mês passado bateu a meta de vendas ganhando assim, um bônus de 20% no seu salário, recebendo um total de R\$ 1.440,00. Qual era o valor do salário de Flávia sem o bônus?

- (A) R\$ 1.100,00.
- (B) R\$ 1.150,00.
- (C) R\$ 1.200,00.
- (D) R\$ 1.280,00.

**15.** Um polígono foi desenhado sobre um plano cartesiano e possui os vértices nos pontos A(1, 5); B(-6, 2); C(-4, -5) e D(-4, -3). Qual o perímetro desse polígono?

- (A)  $\sqrt{58} + \sqrt{53} + 2\sqrt{17} + \sqrt{89}$ .  
 (B)  $\sqrt{35} + \sqrt{50} + \sqrt{58}$ .  
 (C)  $3\sqrt{58} + 2\sqrt{53}$ .  
 (D)  $\sqrt{268}$ .

**16.** Seja a matriz  $\begin{pmatrix} 6 & x & 1 \\ 3 & 4 & 1 \\ 2-x & 2 & 1 \end{pmatrix}$ . Determine a soma dos valores de  $x$  que fazem o determinante dessa matriz ser nulo.

- (A) 7. (B) 5. (C) -2. (D) 3.

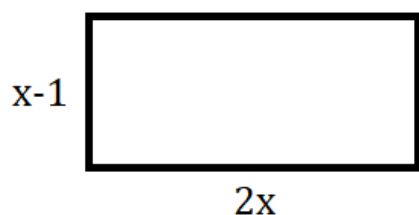
**17.** Fernando encheu completamente com água um copo em formato cilíndrico com 6 centímetros de diâmetro e 8 centímetros de altura. Depois, transferiu toda a água desse copo para outro, também cilíndrico, com 8 centímetros de diâmetro. Qual a altura atingida pela água no novo recipiente?

- (A) 4,0 cm. (B) 4,5 cm. (C) 5,0 cm. (D) 5,5 cm.

**18.** Considere um cone reto de raio  $r$  e altura  $h$ . Se dobrarmos a medida do comprimento do raio e reduzirmos pela metade a medida do comprimento da altura, seu volume passa a ser:

- (A) A metade do volume anterior.  
 (B) O quádruplo do volume anterior.  
 (C) O dobro do volume anterior.  
 (D) O volume se mantém o mesmo.

**19.** Valéria deseja construir uma horta com  $24 \text{ m}^2$  de formato retangular em seu quintal, conforme ilustração abaixo.



Qual a medida do comprimento dessa horta?

- (A) 4 m. (B) 8 m. (C) 9 m. (D) 5 m.

**20.** Paula estava participando de uma competição escolar onde uma das etapas dessa competição era a apresentação de uma paródia. Para passar para a próxima etapa ela deveria tirar uma nota igual ou superior a 7,0, onde a nota era dada pela média aritmética ponderada levando em consideração os seguintes quesitos: criatividade com peso 3, apresentação com peso 3, simpatia com peso 2 e participação com peso 2. Paula tirou a nota 8 em criatividade, 9 em simpatia e 8 em participação. Qual deve ser a nota mínima obtida por Paula no quesito apresentação para que ela seja aprovada para a próxima etapa dessa competição?

- (A) 3. (B) 4. (C) 5. (D) 6.



## QUESTÕES DE CONHECIMENTOS ESPECÍFICOS

**21.** Determinado Fiscal Municipal de Posturas, em efetivo exercício de suas funções, durante o horário de serviço, depara-se com uma pequena festa em um bar da localidade. Ali, um dos secretários municipais está pagando bebidas a todos, com recursos próprios, e distribuindo um novo folheto de sua secretaria, impresso em uma gráfica contratada pela Administração Pública, onde estão sendo divulgadas determinadas informações que exaltam os atos do Prefeito Municipal.

Tendo por referência a narrativa, conforme a Lei Orgânica Municipal de Quissamã/RJ, assinale a alternativa CORRETA:

- (A) Comete ato de improbidade administrativa o secretário por vincular a divulgação de atos públicos à venda de bebidas alcoólicas.
- (B) Comete crime de responsabilidade o secretário por praticar publicidade pública em instituição privada.
- (C) Não comete qualquer irregularidade administrativa o secretário municipal.
- (D) É vedada a veiculação, com recursos públicos, de propaganda dos órgãos da administração municipal que implique promoção social de ocupantes de cargos de qualquer hierarquia.

**22.** Conforme a Lei Municipal nº 143/1991 (Código de Posturas do Município de Quissamã/RJ), qual das alternativas abaixo apresenta o conceito CORRETO de “reincidência”?

- (A) A infração repetida de igual preceito ou semelhante do Código Municipal de Posturas que tenha justificado anteriormente autuação do mesmo infrator, após o trânsito em julgado da decisão prolatada no correspondente processo dando procedência ao auto lavrado.
- (B) A infração repetida de igual preceito do Código Municipal de Posturas, ou legislação penal pertinente, que tenha justificado anteriormente autuação do mesmo infrator, após o trânsito em julgado da decisão prolatada no correspondente processo dando procedência ao auto lavrado.
- (C) A infração repetida de igual preceito do Código Municipal de Posturas que tenha justificado anteriormente autuação do mesmo infrator, após o trânsito em julgado da decisão prolatada no correspondente processo dando procedência ao auto lavrado.
- (D) A infração repetida de igual preceito do Código Municipal de Posturas que tenha justificado anteriormente autuação do mesmo infrator, mesmo que ainda em processamento do correspondente processo dando procedência ao auto lavrado.

**23.** Considere a seguinte situação.

Um armazém, que funcionava 24 horas, notoriamente conhecido por acondicionar itens perigosos à saúde humana, fora alvo de fiscalização, às 19 horas, por um grupo de Fiscais de Postura, com o objetivo de averiguar a situação. Todavia, o procedimento foi obstaculizado pelo dono do local, que argumentou que não havia nenhuma ordem judicial que autorizasse o procedimento, bem como que a Constituição Federal protegia o local durante a noite.

Tendo por referência a Lei Municipal 143, de 30 de dezembro de 1991, o Código de Posturas do Município de Quissamã/RJ, qual das alternativas expõe CORRETAMENTE uma informação sobre a situação:

- (A) Assegura-se inspeções à noite, quando os estabelecimentos fiscalizados funcionarem depois das dezoito horas e com autorização judicial para realização do procedimento.
- (B) O argumento do dono do armazém está correto, pois, o local é asilo inviolável do indivíduo, ninguém nela podendo penetrar sem consentimento do proprietário, salvo em caso de flagrante delito ou desastre, ou para prestar socorro, ou, durante o dia, por determinação judicial.
- (C) Assegura-se inspeções à noite, quando os estabelecimentos fiscalizados funcionarem depois das dezoito horas, ou quando ocorrer motivo relevante que aconselhe a diligência, com as cautelas legais.
- (D) O argumento do dono do armazém está correto, pois tal procedimento seria válido somente durante o dia.

**24.** Considerando a Lei Orgânica do Município de Quissamã (LOM), a permissão para a exploração de serviços públicos e para uso de bens municipais far-se-á mediante:

- (A) Portaria. (B) Lei. (C) Decreto. (D) Resolução.

**25.** No tocante a Lei Municipal 143/1991, as multas serão aplicadas em grau mínimo, médio ou máximo. No momento da imposição da multa, deverá o responsável se ater a alguns elementos, estes dispostos abaixo. Assinale a alternativa que conste um deles **INCORRETAMENTE**:

- (A) Os antecedentes do infrator, relativamente às disposições do Código Municipal de Posturas.  
(B) O bairro de domicílio do cidadão.  
(C) As circunstâncias atenuantes ou agravantes.  
(D) A maior ou menor gravidade da infração cometida.

**26.** Nos procedimentos de apreensão e depósito, conforme o Código Municipal de Posturas de Quissamã/RJ, os mesmos não serão efetivados sem a prévia lavratura do correspondente Auto alusivo ao tema. O documento deverá possuir alguns elementos estruturantes específicos. Marque a alternativa onde se demonstra **INCORRETAMENTE** um deles:

- (A) Especificação clara e objetiva a coisa apreendida.  
(B) Assinatura do proprietário.  
(C) Assinatura de duas testemunhas devidamente qualificadas.  
(D) Firma reconhecida em cartório do agente responsável pela elaboração do auto.

**27.** Com base no Código Municipal de Posturas de Quissamã/RJ, na hipótese de não ser reclamada e retirada a coisa apreendida, dentro de determinado prazo, proceder-se-á sua venda em hasta pública pela Prefeitura, após a publicação de edital uma única vez no órgão oficial da municipalidade, com prazo de dez (10) dias, sendo aplicada a importância apurada na indenização das multas e despesas havidas e entregue qualquer saldo ao proprietário, mediante requerimento devidamente instruído e processado. Considerando a afirmativa acima, qual é o prazo para que a coisa apreendida seja retirada ou reclamada, sem a venda em hasta pública?

- (A) 45 dias. (B) 30 dias. (C) 60 dias. (D) 90 dias.

**28.** No escopo de regramento da LOM de Quissamã, a formalização dos atos administrativos da competência do Prefeito far-se-á sob determinadas formas, conforme o texto da Lei. Cada uma dessas formas possui temas específicos que poderão tratar. Considerando o afirmado, a realização de quais atos, conforme a LOM de Quissamã, poderão ser delegados?

- (A) De Leis. (B) De Portarias. (C) De Decretos. (D) De Resoluções.

**29.** De acordo com a Lei Municipal 143/1991, caso um Fiscal Municipal de Posturas, por notar que o empreendimento fiscalizado é de suma importância para uma família de baixa renda, deixe de realizar determinado procedimento fiscalizatório, descumprindo diretriz legal, qual será a consequência?

- (A) Será considerado infrator das regras do Código Municipal de Posturas, pois será considerado infrator todo aquele que cometer, mandar constranger ou auxiliar alguém a praticar infração e ainda, os encarregados da execução das leis que, vierem a integrá-lo.  
(B) Cometerá ato de improbidade, sendo licenciado, sem vencimento, por até 3 (três) meses.  
(C) Cometerá ilícito civil, pois, com o uso do cargo, descumpriu a lei, podendo sofrer pena de detenção, de um a três anos, e multa.  
(D) Não sofrerá nenhuma sanção, pois executou o ato por caso fortuito ou força maior.

**30.** Recentes modificações alteraram a idade e as regras para a aposentadoria do servidor abrangido por regime próprio de previdência social. Assim, no âmbito da União, a idade mínima para aposentadoria será de 62 (sessenta e dois) anos de idade, se mulher, e de 65 (sessenta e cinco) anos de idade, se homem. No âmbito dos Estados, do Distrito Federal e dos Municípios, a idade mínima estabelecida será:

- (A) Suplementada pela Constituição Federal, observados o tempo de contribuição e os demais requisitos estabelecidos em lei complementar do respectivo ente federativo.
- (B) Complementada pela Constituição Federal, observados o tempo de contribuição e os demais requisitos estabelecidos em lei complementar do respectivo ente federativo.
- (C) Mediante emenda às respectivas Constituições e Leis Orgânicas, observados o tempo de contribuição e os demais requisitos estabelecidos em lei complementar do respectivo ente federativo.
- (D) Mediante emenda às respectivas Constituições Estaduais ou Distritais, que também definirão as regras dos municípios, observados o tempo de contribuição e os demais requisitos estabelecidos em lei complementar do respectivo ente federativo.

**31.** No Word/2010, as teclas de função são usadas para executar tarefas específicas. Sobre a funcionalidade dessas teclas assinale a alternativa CORRETA.

- (A) F5 apenas: exibe a caixa de diálogo ir para.
- (B) F2 apenas: exibe o painel de tarefas ajuda do Word.
- (C) Ctrl + Shift + F1: exibe a caixa de diálogo de indicador.
- (D) Alt + F4: restaura o tamanho da janela do documento.

**32.** Supondo-se que determinado servidor efetivo de uma autarquia municipal, sendo esta especializada na execução de serviços de controle e coordenação do trânsito, por sua influência na cidade, torna-se Prefeito. Neste caso, de acordo com a Constituição Federal (CRFB), investido no mandato de Prefeito, o servidor será afastado do cargo, emprego ou função, sendo-lhe:

- (A) Obrigatório cumular a remuneração ambos os cargos.
- (B) Facultado optar pela sua remuneração.
- (C) Obrigatório optar pela remuneração mais alta.
- (D) Obrigatório optar pela remuneração mais baixa.

**33.** Analise o trecho que se segue:

A razão de ser da Administração é toda externa. Tudo o que nela se passa, tudo que faz, tudo que possui, tem uma direção exterior. Ao se tratar de existência e eficácia, decerto que qualquer ato em Direito, para existir, tem de possuir uma forma, é dizer, deve exteriorizar-se de algum modo. Além disso, a externalização dos atos propicia conhecimento da conduta interna dos agentes públicos.

Tendo por referência o acima exposto, a qual dos princípios explícitos da Administração Pública, estes constantes do art. 37 da Constituição Federal de 1988 (CRFB), o trecho se refere?

- (A) Publicidade.
- (B) Legalidade.
- (C) Eficiência.
- (D) Moralidade.

**34.** Sobre os procedimentos realizados após a lavratura do auto de infração, conforme o Código Municipal de Posturas de Quissamã, qual o prazo do autuado para o oferecimento da defesa, este contado da data do auto ou da data da publicação do edital de notificação, uma única vez, no jornal local dos atos da municipalidade, publicação essa na hipótese do infrator, por qualquer modo, embaraçar a sua intimação?

- (A) 10 dias.
- (B) 20 dias.
- (C) 15 dias.
- (D) 30 dias.

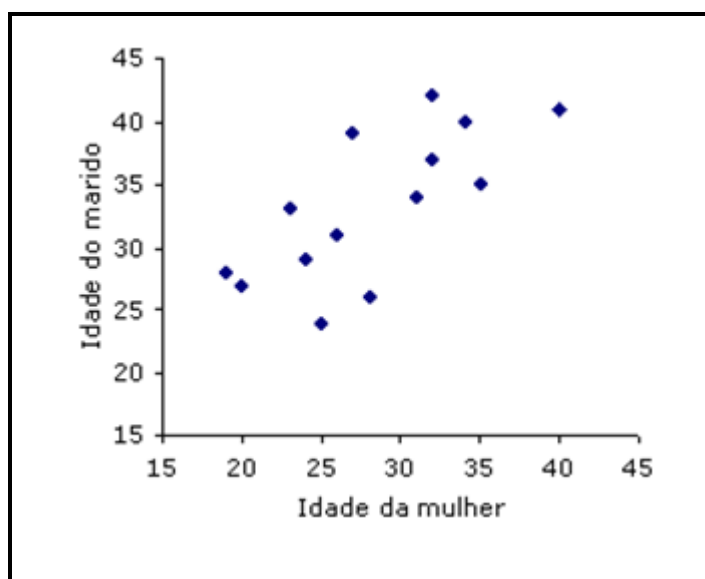
**35.** Um funcionário público após o término de seu relatório digitado no Word 2010, deseja salvar como e depois imprimir o seu relatório. Quais são as teclas de atalho que este funcionário usará?

- (A) Salvar como: F1, Imprimir: CTRL+C.
- (B) Salvar como: F5, Imprimir: CTRL+P.
- (C) Salvar como: CTRL+S, Imprimir: CTRL+I.
- (D) Salvar como: F12, Imprimir: CTRL+P.

**36** Considerando o texto da LOM de Quissamã/RJ, sobre as regras do processo legislativo, dentre as alternativas abaixo, qual o procedimento correto para as leis delegadas?

- (A) As leis delegadas serão elaboradas pelo Prefeito Municipal, que deverá solicitar a delegação à Câmara Municipal.
- (B) As leis delegadas serão elaboradas pela Câmara Municipal, que deverá solicitar a delegação à Prefeito Municipal.
- (C) As leis delegadas serão elaboradas pelo Prefeito Municipal, que deverá solicitar a delegação ao Poder Judiciário local.
- (D) As leis delegadas serão elaboradas pelo Poder Judiciário local, que deverá solicitar a delegação à Câmara Municipal.

**37.** Observe com atenção o gráfico do Excel abaixo.



Fonte: <<https://www.voitto.com.br>>.

Trata-se de um:

- (A) Gráfico de ações.
- (B) Gráfico de áreas.
- (C) Gráfico de barras.
- (D) Gráfico de dispersão.

**38.** Considerando o Código Municipal de Posturas de Quissamã/RJ, os procedimentos de defesa do autuado se darão em quantas instâncias, em âmbito administrativo?

- (A) Uma.
- (B) Duas.
- (C) Três.
- (D) Quatro.

**39.** Imagine a seguinte situação: “Na barra de tarefas existe um atalho do *PowerPoint*, acidentalmente você clicou com o botão direito do mouse sobre o mesmo”. O que acontecerá?

- (A) As últimas apresentações do *PowerPoint* abertas no computador serão relacionadas.
- (B) As últimas apresentações do *PowerPoint* serão reproduzidas automaticamente.
- (C) O aplicativo *PowerPoint* será aberto.
- (D) O aplicativo *PowerPoint* será desinstalado.

**40.** O termo “prevenção de incêndio” expressa tanto a educação pública como as medidas de segurança contra incêndio. Prevenir incêndios é tão importante quanto saber apagá-los ou mesmo saber como agir corretamente no momento em que eles ocorrem.

Podemos destacar como algumas das regras básicas, para prevenção de incêndios:

1. Conserve sempre as caixas de incêndios em perfeitas condições de uso e as utilize diariamente.
2. Evitar a falta de ventilação nos ambientes.
3. Alertar sobre o ato de fumar em locais proibidos e sobre o cuidado de atirar fósforos e pontas de cigarros acessos em qualquer lugar.
4. Os extintores devem ser colocados em locais de fácil visualização, de fácil acesso e onde haja menos probabilidade do fogo bloquear o seu acesso.
5. Mantenha sempre à vista o telefone de emergência do Corpo de Bombeiros, que é o 190.

Estão CORRETAS as afirmações:

- (A) 1, 2, 3, 4 e 5.
- (B) 2, 3 e 4 apenas.
- (C) 1, 2, 3 e 4 apenas.
- (D) 2, 4 e 5 apenas.

EM BRANCO

PCI Concursos